

آمادگی و دبستان دخترانه غیردولتی روش نوین



نام آموزگار: الهه غلامی

پایه دوم

نام و نام خانوادگی دانش آموز:

تاریخ: ۱۴۰۰/۱۰/۹

موضوع: ارزشیابی ریاضی (نوبت اول)

۱- عزیز دلم الگوهای زیر را ادامه بده و رابطه ی الگو را بنویس.

۱-۲-۴-۷ - - -

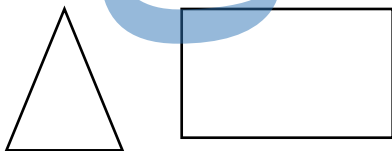
۵-۶-۹-۱۴ - - -

صد - دویست - - چهارصد - - ششصد - - هشتصد.

۲- با رقم های ۵ و ۳ برای یکان و ۴ و ۱ برای دهگان چه عدد هایی میتوان نوشت؟

جزوه سیپی

۳- عزیزم اسم هر شکل را زیر آن بنویس و شباهت ها و تفاوت های آن را بنویس.



شباهت: _____

تفاوت: _____

۴- حاصل عبارت های زیر را بدست آورید.

	(فرایندی)	(فرایندی)	(فرایندی)
$۲۰+۱۰+۵+۸+۵ =$	۸۰	۳۸	۱۳
$۱۵+۵+۳۰+۱۰ =$	<u>- ۳۲</u>	<u>+ ۴۵</u>	<u>+ ۲۷</u>
$۷۰+۳۰ =$			
$۱۰۰-۲۰ =$			

(تقریبی)

۵۴

+۱۸

(تقریبی)

۲۷

-۱۵

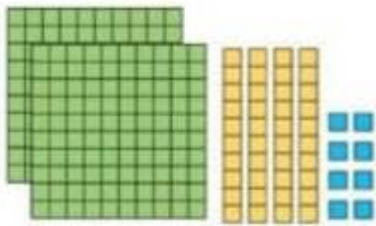
۵- در یک باغی تعدادی درخت سیب وجود دارد. اگر هر درخت ۶ سیب بدهد، ۴ درخت چند سیب دارد؟
درخت اول و دوم باهم چند سیب دارد؟

۶- مریم ساعت ۸ از خواب بیدار شد و نیم ساعت بعد صبحانه خورد. او چه ساعتی صبحانه خورد؟
او ۲ ساعت و نیم بعد از ساعت ۸ به مدرسه رفت. مریم چه ساعتی به مدرسه رفت؟



جزوه سیپی

۷- عزیزم عدد مربوط به شکل زیر را در جدول بنویس. سپس به عدد و حروف بنویس.

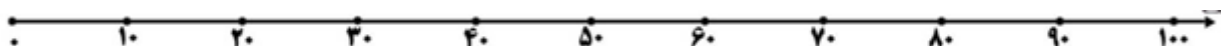


صدتایی	ده تایی	یکی

عدد _____

حروف _____

۸- عزیزم عدد های ۳۵، ۴۱، ۱۳ را به صورت تقریبی روی محور نشان بده.



۹- ۵۶ دانش آموز کلاس اولی و کلاس دومی در یک مدرسه بودند، اگر ۳۲ نفر از این دانش آموزان کلاس دومی باشند، چند دانش آموز کلاس اولی در مدرسه هستند؟

۱۰- عزیزم زمان های خواسته شده را روی ساعت نشان بده.

ساعت ۶ و ربع



ساعت ۸ و ۵۰



جزوه سیپی

